

Bijlage HAVO
2024

tijdvak 2

economie

Bronnenboekje

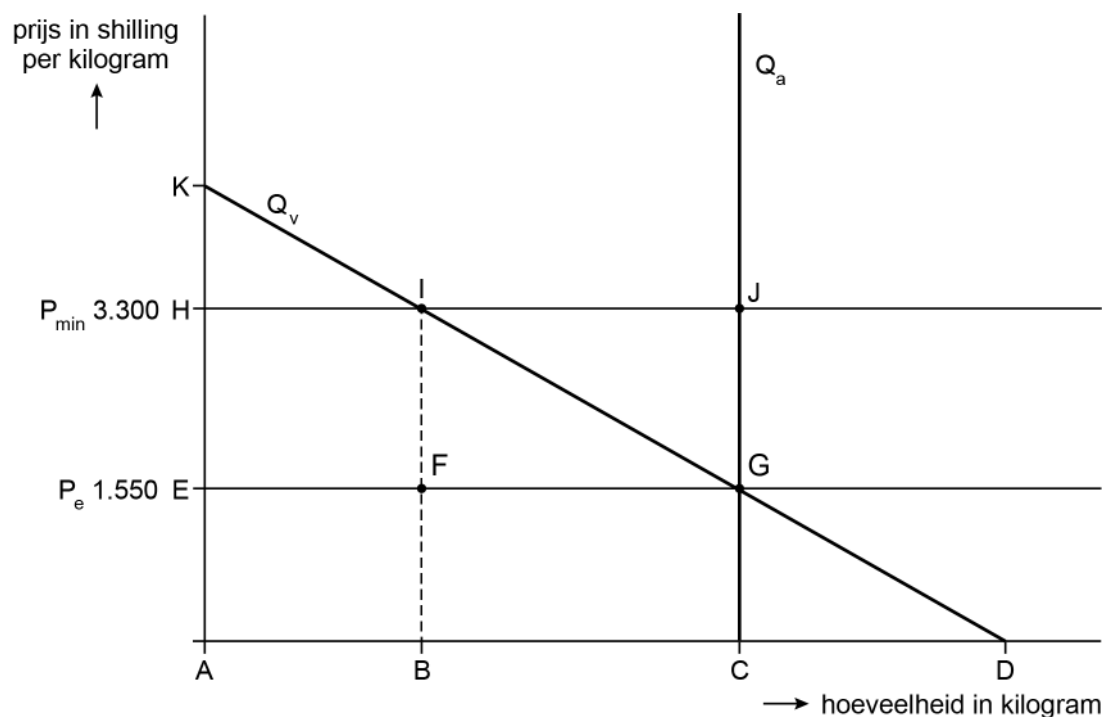
examentor.nl

HA-1022-a-24-2-b



Opgave 1 Cashewnoten

Bron 1 Vereenvoudigde weergave cashewnotenmarkt van Tanzania

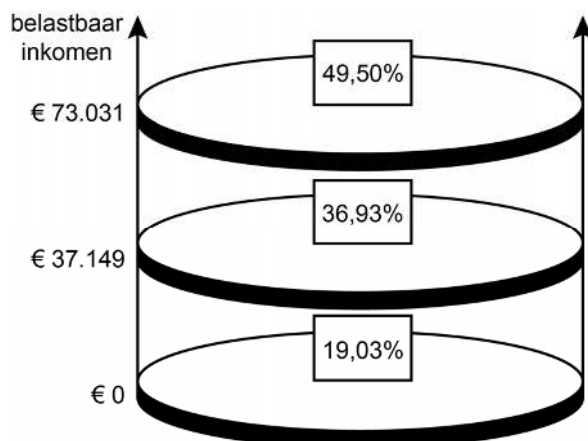


- P_{\min} minimumprijs per kilogram in Tanzaniaanse shilling
- P_e evenwichtsprijs per kilogram in Tanzaniaanse shilling
- Q_v gevraagde hoeveelheid cashewnoten in kilogram
- Q_a aangeboden hoeveelheid cashewnoten in kilogram



Opgave 3 Studiekosten

Bron 1 Belastingstijven en de bijbehorende belastingtarieven



Opgave 4 Rente omlaag, maar dan?

Bron 1 Uitgewerkt voorbeeld van de afweging: kopen of huren

Een huurder heeft de volgende verwachtingen voor de komende jaren:

- in het eerste jaar bedraagt de huur € 7.200;
- de huur stijgt jaarlijks op 1 januari met 4%;

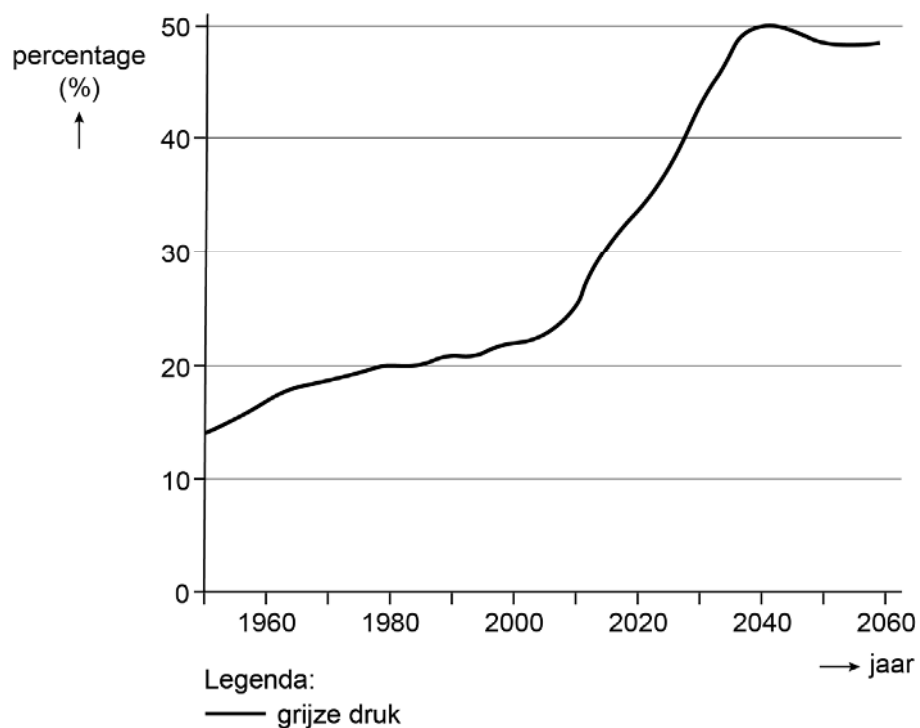
- een vergelijkbare koopwoning kost € 240.000;
- de rente van een hypothecaire lening waarop niet wordt afgelost blijft 2% per jaar;
- de koopwoning wordt volledig gefinancierd met een hypothecaire lening;

- de extra kosten van een koopwoning ten opzichte van een huurwoning (onderhoud, etc.) worden de komende jaren geschat op € 250 per maand.



Opgave 5 Zorgen om morgen

Bron 1 Grijsz druk



Grijze druk is gedefinieerd als het aantal 67-plussers als percentage van het aantal 20- tot 66-jarigen.

