

uitwerkbijlage

Naam kandidaat _____ Kandidaatnummer _____

Latte macchiato

1 *Omcirkel in elke zin de juiste mogelijkheid.*

De dichtheid van melk is

groter
kleiner

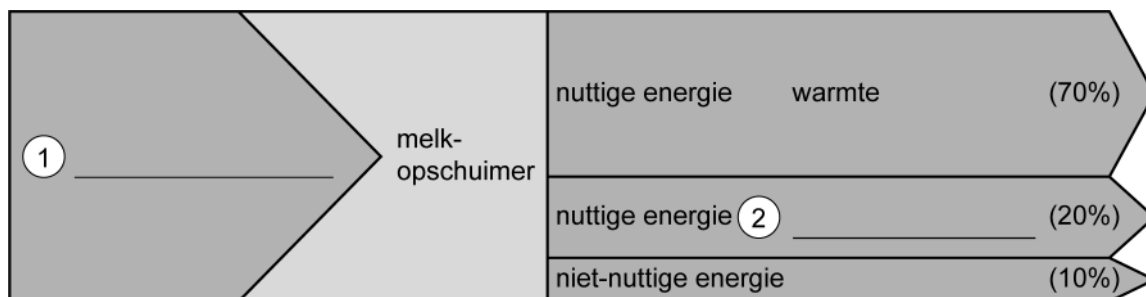
 dan de dichtheid van koffie.

De dichtheid van melkschuim is

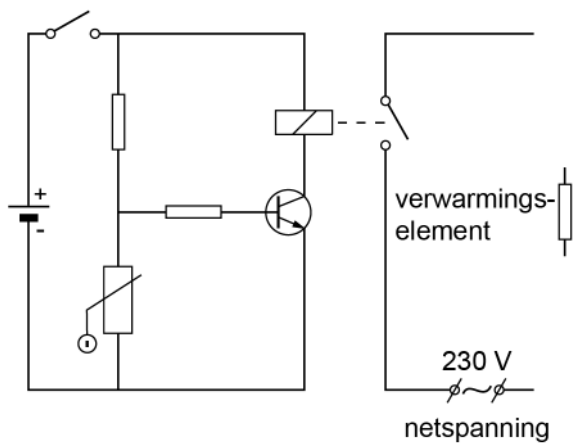
groter
kleiner

 dan de dichtheid van melk.

2 *Noteer de juiste energiesoorten bij 1 en bij 2.*



- 5 *Maak het rechter gedeelte van het schakelschema compleet met een elektromotor.*



- 6 *Omcirkel in elke zin de juiste mogelijkheid.*

Door het opwarmen van de melk neemt de temperatuur van de NTC toe waardoor

- de weerstand van de NTC

afneemt

toeneemt

- de stroomsterkte naar de basis van de transistor

afneemt

toeneemt

- de schakelaar van het relais

wel

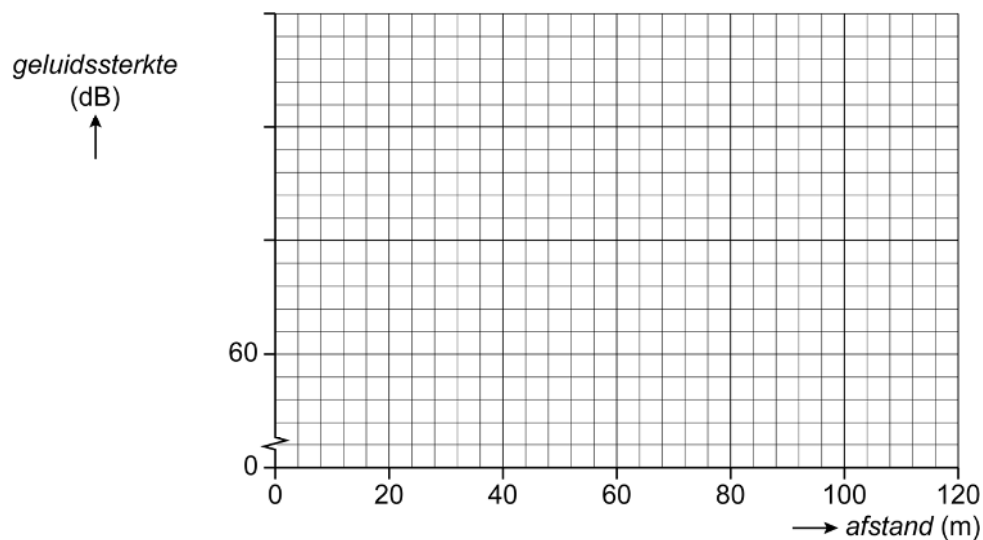
niet

wordt aangetrokken.



Autosnelweg

- 14 Zet in het diagram alle meetpunten uit en teken de grafiek die bij dit verband hoort.



- 15 Noteer in beide kolommen het juiste antwoord.

De geluidssterkte is	De zone van gehoorgevoeligheid is
_____ dB.	_____ .



Practicum telefoon

24 Omcirkel in elke zin de juiste mogelijkheid.

Het moment links van **D**

blijft gelijk

neemt af

neemt toe

Het moment rechts van **D**

blijft gelijk

neemt af

neemt toe

De telefoon

gaat omhoog

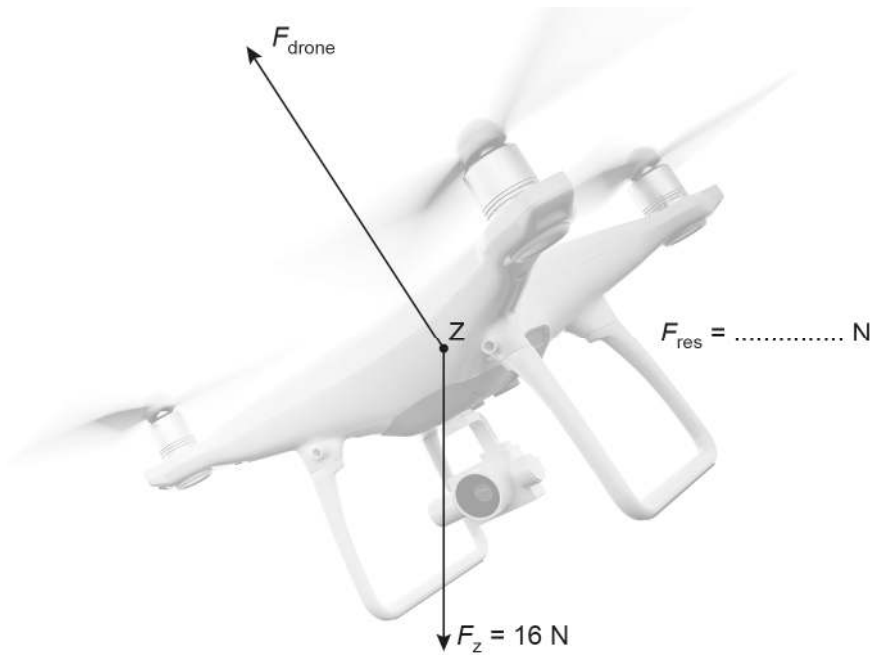
blijft op dezelfde hoogte

gaat omlaag



Drone

34 en 35 Construeer de resulterende kracht van F_z en F_{drone} . Noteer de grootte van deze kracht naast de afbeelding. De krachtenschaal is $1 \text{ cm} \triangleq 4,0 \text{ N}$.



Petroleum

39 *Maak deze zin compleet.*

Bij verdampen gaat petroleum over

van de _____ fase

naar de _____ fase.

40 *Noteer in deze zin het kookpunt van petroleum in K en in °C.*

Het kookpunt van petroleum is _____ K, dit is _____ °C.

VERGEET NIET DEZE UITWERKBIJLAGE IN TE LEVEREN

